



1-Aşağıdakilerden hangisi bu görselle ilgili değildir?

- A) İnsanlar gemiyi limana ulaştırmanla ilgilenir. Yolda mücadele ettiğin fırtınalarla değil. O yüzden başarılarının tadını çıkar.
- B)Kariyerim boyunca 9000'den fazla atış kaçırdım. Neredeyse 300 maç kaybettim. Hayatımda defalarca başarısız oldum ve işte bu sayede başardım.
- C)Dünyanın bütün nimetleri elinde olsa bile onları tadabilecek bir ruh gerekir. Çünkü bizi mutlu eden, bir şeyin sahibi olmak değil tadına varabilmektir.
- D)Bugün dünya şirketleri, hata yapanları cezalandırmıyor. Tam tersine, hata yapmayanları bünyelerinde barındırmıyor. Çünkü hata yapmamanın iki nedeni olabilir: Birincisi, iş yapmayanlar hata yapmaz. İkincisi, risk almaktan çekinenler hata yapmaz.



2-Yukarıdaki görsel incelendiğinde aşağıdaki çıkarımlardan hangisi yapılabilir?

- A)2019'da itfaiyenin en çok müdahale ettiği olay yangınlardır.
- B)Yangınların en büyük sebebi insanların dikkatsizliğidir.
- C)Yangın dışındaki farklı olaylara da itfaiye müdahale etmiştir.
- D)2019'da ülkemizde yaşanan trafik kazalarının sayısı bin iki yüz kırk beştir.

Türk sanatında süslemelerin ve onları oluşturan motiflerin ayrı bir önemi vardır. Her biri evrensel bir dile sahip olan motifler kültürümüzde çeşitliliği, renkliliği ve zenginliğiyle dikkat çekmektedir. Tarihten günümüze yetmiş nice nakkaş, hattat ve ressam, eserlerini motiflerin binbir renk ve biçimiyle süslemiştir. Türk sanatında kullanılan bu motiflerden biri "ışın"dır. Bir ışık kaynağından çıkarak her yöne yayılan ışık demeti şeklinde oluşturulan bu motif, özellikle Osmanlı armalarında kullanılmıştır. Sürekliliği yansıtan "çarkıfelek" motifi; dünyanın dönüşünü, devinimi ve hayatı anlatır. Bu motifte, merkezden dışa doğru açılan çizgiler, rüzgârgülü gibi tek yönde şekillendirilerek oluşturulmuştur. Bir diğer motif olan "zencerek", belli bir düzenle birbirinin içinden geçirilmiş iplere benzeyen yapısından dolayı "mutluluk düğümü" olarak adlandırılmaktadır. Sonsuzluğu simgeleyen bu motif; güç, birlik ve mutluluğu da temsil eder.

3-Aşağıdakilerden hangisi bu metinde sözü edilen motiflerden biri değildir?



A)



B)



C)



D)

Aşağıda bazı çanta türleriyle ilgili bilgiler verilmiştir.

Askısız ve kulpsuz küçük bir çanta türü olarak bilenen bu çantaya el çantası denir. Cüzdana benzeyen bir çantadır. Pratik ve cüzdandan biraz büyük olmasından dolayı kolay taşınabilir. Bileğin kavrayabileceği uzunlukta askısı ya da kayışı olan küçük bir çantadır. Dikdörtgen bir şekle ve kısa uzunlukta bir askıya sahiptir. Genellikle omuzda taşınan ve hilal şeklinde olan büyük bir çantadır. Çok yönlü, kullanışlı ve popüler çanta türlerinden biridir. Günlük hayatta birçok alanda rahatlıkla kullanılabilir.

4-Aşağıdakilerden hangisi açıklaması verilen çanta türlerinden biri değildir?

A)



B)



C)



D)



Kalimba, Afrika'nın güneyinde ortaya çıkmış hem tuşlu hem de vurmali diyebileceğimiz ara sınıf bir müzik aletidir. İki el ile tutularak kullanılan bu müzik aleti başparmaklar ile çalınmaktadır. İşaret parmakları genelde ürünün yan yüzeylerinde aleti en doğru biçimde konumlandırmak veya tutmak için kullanılır. Alet en doğru mesafe ve şekilde tutulduktan sonra başparmaklar ile gerekli şiddetlerde dokunuşlar yapılarak anlık temaslar ile muhteşem ses üretilmektedir.

5-Bu bilgilere dayanarak aşağıdaki görsellerden hangisi kalimbaya ait olabilir?



A)

B)

C)



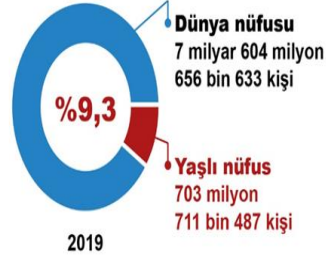
D)



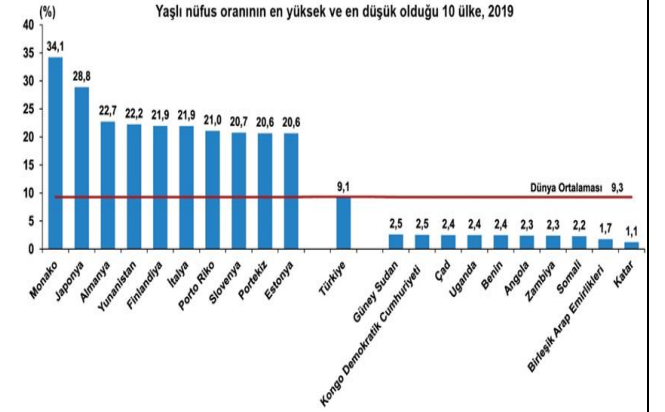
İSTATİSTİKLERLE YAŞILAR

2019

HABER BÜLTENİ



En yüksek yaşlı nüfus oranına sahip ilk üç ülke; %34,1 ile Monako, %28,8 ile Japonya ve %22,7 ile Almanya oldu. **Türkiye**, 167 ülke arasında **66. sırada** yer aldı.



6-Bu verilerden hareketle aşağıdakilerden hangisine ulaşamaz?

- A) Türkiye'nin yaşlı nüfus oranı, dünyadaki yaşlı nüfus ortalamasının üzerindedir.
- B) Dünyadaki yaşlı nüfus sayısı 700 milyondan fazladır.
- C) Almanya yaşlı nüfus oranında dünyada 3. sırada bulunmaktadır.
- D) Türkiye'nin yaşlı nüfus oranı Japonya'nın yaşlı nüfus oranından düşüktür.



7-Bu görselde aşağıdakilerden hangisine dikkat çekilmek istenmiştir?

- A) Bazı sözcüklerin birden fazla doğru yazımının olduğuna
- B) Yabancı dillerden geçen kelimelerin Türkçe yazımına
- C) Yazımı karıştırılan bazı sözcüklerin doğru yazımına
- D) Anlamca çelişen sözcüklere

'TARIM VE MEMUR' KENTİNDEN 'SANAYİ' BAŞKENTİNE

Gecmişte memur, bürokrasi ve tarım kenti olarak anılan Ankara, son dönemde eğitimden sanayiye, bilimden teknolojiye kadar farklı alanlarda yaptığı atılımı tarihi bir dönüşüm yaşadı.



ANKARA

Türkiye'nin en fazla ihracat yapan illeri arasında 5'inci sırada
Ülke ekonomisinde %8,5'lik paya ulaştı

Nüfus (kişi)
5.445.026

İstihdam edilen kişi sayısı
1.908.000

İşsizlik oranı (%)
11,4

Esnaf sayısı
89.734

Tarım alanı (milyon dekar)
12,3

İhracat (milyar dolar)
6,7

Otomobil sayısı
1.389.833

Toplam motorlu taşıt sayısı
1.905.510

Üniversite
19

Organize sanayi bölgesi
12

Teknopark
8

Kent, kuru soğan ve kavun üretiminde ülke birincisi, havuç, vişne ve yeşil mercimekte ikinci sırada

Savunma sanayisi Ankara ekonomisinde önemli bir yer tutuyor

Ankara, ASELSAN, Roketsan, Havelsan, TAI gibi savunma sanayisinin önemli firmalarına ev sahipliği yapıyor

Üniversite mezunlarının oranı yüzde 21,4

Kentte, yüksekokul veya fakülte mezunlarının oranı 21,3 ile Türkiye ortalamasının (%14,06) oldukça üstünde bulunuyor

Ankara'da lisans ve ön lisans düzeyinde toplam 217 bin 584 öğrenciyle 19 bin 390 öğretim elemanı yaşıyor

8-Bu görselden Ankara ile ilgili;

- Kuru soğan ve kavun üretiminde ülkedeki sıralamasına,
 - Üniversite öğrencilerinin ve üniversitelerin sayısına,
 - Savunma sanayisindeki bazı firmalara ev sahipliği yaptığına,
- numaralanmış bilgilerden hangilerine ulaşılabilir?

- A) Yalnız I. B) I ve II. C) II ve III. D) I, II ve III.



9-Yukarıdaki görselden aşağıdakilerden hangisi kesinlikle çıkarılabilir?

- A) Tüm gezegenler en az bir tane doğal uyduya sahiptir.
B) Doğal uyduların sayısı gezegenin büyüklüğüne göre değişir.
C) Uydulara verilen isimler görünümüne göre belirlenir.
D) Dünya hem doğal hem yapay uydusu bulunan bir gezegendir.

İŞGÜCÜ İSTATİSTİKLERİ

2019

HABER BÜLTENİ

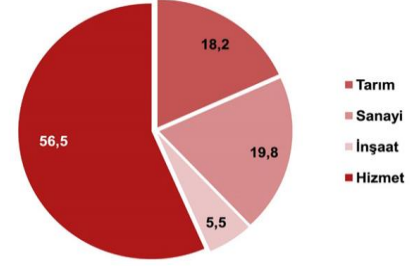
2019 yılında istihdam edilenlerin;

Tarım
%18,2
5 milyon
97 bin kişi

Sanayi
%19,8
5 milyon
561 bin kişi

İnşaat
%5,5
1 milyon
550 bin kişi

Hizmet
%56,5
15 milyon
872 bin kişi



10-Türkiye'nin 2019 İşgücü İstatistiği'nden hareketle aşağıdakilerden hangisine ulaşamaz?

- A) Tarımda istihdam edilen kişi sayısı sanayide istihdam edilen kişi sayısından azdır.
B) Hizmet sektöründe istihdam edilen kişi sayısı diğer sektörlerin toplam kişi sayısından fazladır.
C) İstihdam edilen kişi sayısının en az olduğu sektör inşaat sektörüdür.
D) Sanayi sektörü gün geçtikçe büyümektedir.

PISA 2018

PISA nedir?
PISA (Uluslararası Öğrenci Değerlendirme Programı), Ekonomik İşbirliği ve Kalkınma Örgütü (OECD) tarafından 15 yaş grubundaki öğrencilerin belirli alanlarda kazandıkları bilgi ve becerileri değerlendirmek için her üç yılda bir yapılan uluslararası bir araştırmadır.

PISA'da ne ölçülür?
PISA araştırması 15 yaş grubunda örgün eğitime devam eden öğrencilerin matematik okuryazarlığı, fen okuryazarlığı ve okuma becerilerini ölçmek için yapılmaktadır. Her araştırmada bir alan, ağırlıklı alan olarak seçilmektedir. PISA 2018 araştırmasında okuma becerileri alanı ağırlıklı alan olarak seçilmiştir.

Türkiye PISA'ya ilk ne zaman katıldı?
Türkiye PISA araştırmasına 2003 yılından bu yana katılmaktadır. PISA'ya 2003 yılında 41 ülke katılmışken 2018 yılında 79 ülke katılmıştır.

meb.gov.tr

11-PISA ile ilgili verilenlerden hareketle aşağıdakilerden hangisine ulaşamaz?

- A) PISA araştırmaları matematik, fen, okuma becerileri okuryazarlığını ölçmek için yapılır.
B) Uluslararası olarak uygulanan PISA, 15 yaş grubundaki öğrencileri belirli alanlarda ölçerek rapor hazırlar.
C) PISA araştırması okuma becerileri, fen okuryazarlığı ve matematik okuryazarlığı dışında da başka birçok alanda hizmet vermektedir.
D) PISA'ya 2003 yılından bu yana katılım gerçekleştiren ülkemiz yetmişten fazla olan bu ülkeler arasında yer almaktadır.

GÖBEKLİTEPE UNESCO DÜNYA MİRAS LİSTESİ'NDE

Disisleri Bakanlığı, Şanlıurfa'daki Göbeklitepe arkeolojik alanının, Birleşmiş Milletler Eğitim, Bilim ve Kültür Örgütü (UNESCO) Dünya Miras Listesi'ne girmesiyle Türkiye'nin söz konusu listeye kayıtlı alanlarının sayısının 18'e yükseldiğini duyurdu.



8-30 metre çapında dünyanın en eski tapınan en eski tapınak kalıntıları


İLK KEZ 1963'TE FARK EDİLEN GÖBEKLİTEPE'DE BUGÜNE KADAR GÜN YÜZÜNE ÇIKARILAN BAZI ESERLER:



Çok sayıda yabancı hayvan figürü, insan heykeli



Yaklaşık 12 bin yıl öncesine ait olduğu belirtilen 65 cm uzunluğunda insan heykeli



Neolitik döneme ait, boyları 3-6 metre, ağırlıkları 40 - 60 ton yabancı hayvan figürlü "T" biçimli dikili taşlar



Göbeklitepe, "Dünyanın en eski tapınak merkezi" kabul ediliyor




6 yıl önce UNESCO Dünya Mirası Geçici Listesi'ne alındı



42'nci Dünya Miras Komitesi Toplantısı'nda UNESCO Dünya Kültür Miras Listesi'ne kabul edildi

12-Bu görselde verilenlerden hareketle aşağıdaki yargılardan hangisine ulaşamaz?

- A) Türkiye'nin, UNESCO Dünya Miras Listesi'nde kayıtlı birden fazla eseri vardır.
- B) Göbeklitepe, Dünya'da turistlerin en fazla ziyaret ettiği yerler arasında ilk sıradadır.
- C) Göbeklitepe'de, yaklaşık 12 bin yıl öncesine ait olduğu belirtilen insan heykelleri vardır.
- D) 1963 yılından önce Şanlıurfa'da Göbeklitepe'nin varlığı bilinmiyordu.



13-Aşağıdaki yargılardan hangisi bu karikatürde anlatılmak istenen düşünceye en yakındır?

- A) Topluları bir arada tutan şey onların ortak kültür miraslarıdır.
- B) İnsanlar doğaya karşı duyarsızlığını sürdürürse dünyamız hızla yok olacaktır.
- C) Dünyadaki su kaynakları tükendikçe kuraklık artacak, su ulaşmaz bir şey olacaktır.
- D) Suların kirlenmesi önlenmezse gelecekte insanlar içme suyuna bile muhtaç kalacaktır.

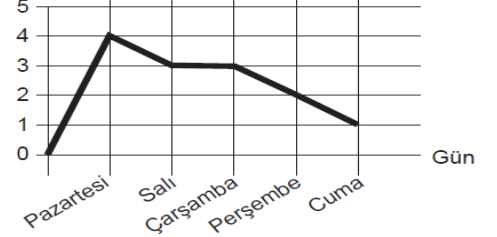
14-

Hamit Bey, şirketindeki çalışma arkadaşlarının bir haftalık kitap okuma sayılarını değerlendirip bir grafik hazırlamıştır. Bu grafiğe göre;

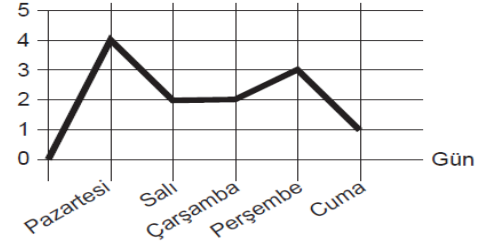
- Pazartesi en çok kitap okunan günken cuma günü en az kitap okunan gündür.
- Salı ve çarşamba günlerinde okunan kitap sayıları eşittir.
- Perşembe günü, cuma gününden bir kitap fazla okunmuştur.

Verilen bilgilere göre hazırlanan grafik aşağıdaki-lerden hangisi olabilir?

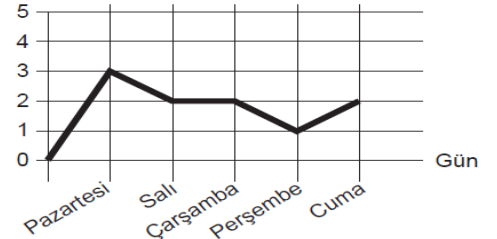
A) Kitap Sayısı



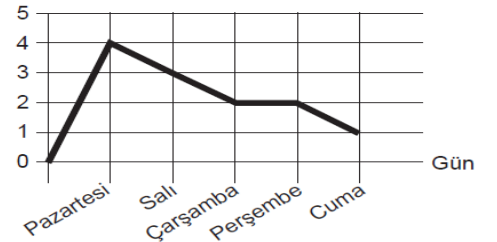
B) Kitap Sayısı



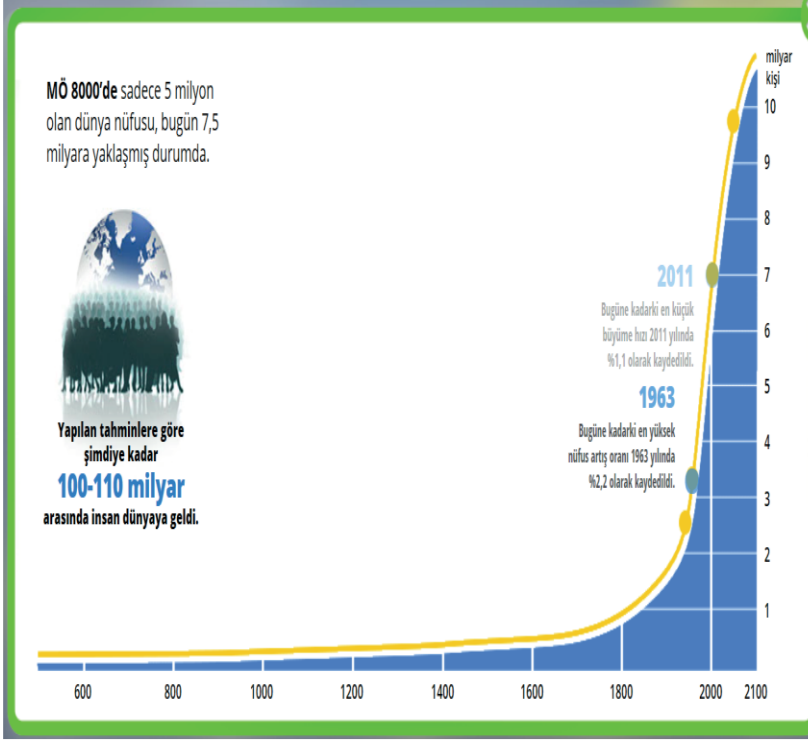
C) Kitap Sayısı



D) Kitap Sayısı



Aşağıdaki grafik, Dünya nüfusuna ait verileri ve geleceğe yönelik tahminleri göstermektedir.



15-Bu grafiğe göre aşağıdaki yargılardan hangisine ulaşamaz?

- A) Dünyadaki toplam insan sayısı 1800'lere kadar 1 milyarın altında olmuştur.
 B) 1800 ile 2000 yılları arasında dünya nüfusu yaklaşık 5 katı artarak 6 milyar civarına gelmiştir.
 C) 1950'li yıllarda yaşanan Sanayi Devrimi, dünya nüfusundaki artışı oldukça olumsuz yönde etkilemiştir.
 D) Yapılan tahminlere göre dünya nüfusu, 2100 yılında 10 milyarı geçecektir.



16-Bu görselden aşağıdakilerden hangisine ulaşamayız?

- A) C vitamini yiyecekleri bol bol yemeliyiz.
 B) Kedi ve köpeklerimizi ihmal etmeyip her zaman sevmeliyiz.
 C) Ellerimizi sık sık su ve sabunla yıkayıp dezenfekte etmeliyiz.
 D) Herkesin bulunduğu ortamlarda maske kullanmalıyız.

DÜNYADA 2,1 MİLYAR KİŞİ TEMİZ SUDAN YOKSUN

Dünya genelinde 2 milyar 100 milyon kişi temiz suya ulaşamıyor. 844 milyonu içme suyu hizmetlerine erişemiyor.




Her 10 kişiden 3'ünün evinde temiz ve güvenilir kullanma suyu bulunmuyor



Her 10 kişiden 6'sı kötü koşullarda yaşıyor



2040'ta 33 ülkenin son derece yüksek oranda su sıkıntısı ile karşı karşıya kalacağı tahmin ediliyor



159 milyon kişi akarsu ya da göl gibi kaynaklardan elde edilen arıtılmamış suyu içiyor

2025'e kadar 3,5 milyar kişinin su kıtlığıyla karşı karşıya kalabileceği belirtiliyor

263 milyon kişi evlerinin yarım saat uzağından su taşıyor

17-Bu görselden aşağıdakilerden hangisine ulaşamaz?

- A) Su kaynakları evlere yakın mesafede bulunmaktadır.
 B) İlerleyen yıllarda birçok ülke su sıkıntısı çekecektir.
 C) 150 milyondan fazla kişi temiz su içmemektedir.
 D) İnsanlar su ihtiyacını akarsu ve göllerden sağlamaktadır.

ÖNEMLİ!

AFET VE ACİL DURUMLARDA İLETİŞİMİN KESİNTİSİZ SÜRDÜRÜLEBİLMESİ HAYATİ ÖNEM TAŞIMAKTADIR.



Haberleşmek için kısa mesaj servisi (SMS) ve internet tabanlı mesajlaşma uygulamalarını tercih edin.



Telefon görüşmelerinizi olabildiğince kısa tutun.



Hayati durumlar dışında telefon görüşmesi yapmaktan kaçının.



TÜRKİYE CUMHURİYETİ İÇİŞLERİ BAKANLIĞI



18-Bu görselden aşağıdakilerden hangisi çıkarılamaz?

- A) Bu görselde afet anında sürdürülebilir bir iletişim sağlanması için gerekli adımlar anlatılmıştır.
 B) Telefon görüşmesi yerine mesajlaşma ya da internet tabanlı mesajlaşma önerilmektedir.
 C) Afet durumunda hayati durumlar dışında telefon görüşmesi yapmak doğru değildir.
 D) Bu görselde sadece deprem anında yapılması gereken adımlar gösterilmektedir.



Düşük ve orta gelirli ülkelerde su kullanımı grafiğidir.



Yüksek gelirli ülkelerde su kullanımı grafiğidir.

19-Bu iki grafik karşılaştırıldığında aşağıdakilerden Nhangisi kesin olarak söylenebilir?

- A) Orta gelirli ülkelerde su kullanımı, yüksek gelirli ülkelere daha fazladır.
- B) Hem tarım yapıp hem yüksek gelir elde eden ülke yoktur.
- C) Düşük gelirli ülkelerde ev sayısı daha fazladır.
- D) Yüksek geliri olan ülkeler, suyun büyük bölümünü sanayi için kullanmaktadır.

Gerçeküstüçülük akımı, 20. yüzyılın başlarında Avrupa'da ortaya çıkan bir sanat akımıdır. Gerçeküstücü sanatçılar yapıtlarında nesnelere olağan dışı biçimlerde betimlemeye çalışırlar. Akımın temsilcileri eserlerini "rüya ve gerçeklik arasındaki çizgiyi yok eden eserler" olarak anlatırlar.

21-Bu bilgilere göre aşağıdaki resimlerden hangisi gerçeküstüçülük akımını temsil etmemektedir?



ÜRÜNLERİN DOĞADA YOK OLUŞ SÜRELERİ

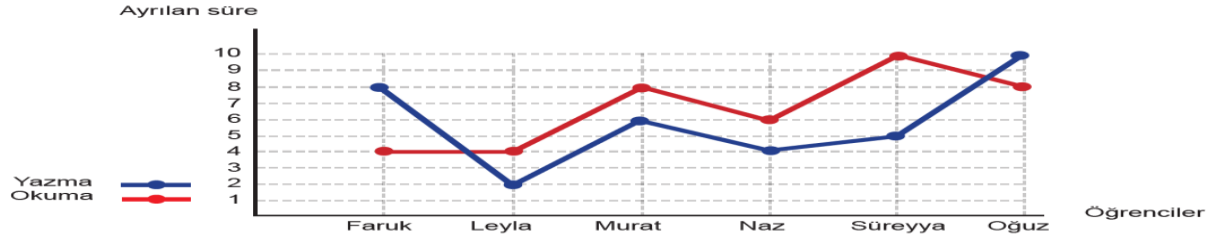
| | | | | | |
|---------------------------|-----------------------|----------------------|---------------------------|--------------------------|-----------------------------|
| CAM ŞİŞE 4000 yıl | ÇIKLET 5 yıl | KUTU KOLA 10 yıl | PET ŞİŞE 400 yıl | SİGARA FİLTRESİ 2 yıl | PLASTİK MALZEME 1000 yıl |
| PLASTİK ÇAKMAK 100 yıl | KAĞIT, GAZETE 3 ay | ALÜMİNYUM 100 yıl | TELEFON KARTI 1000 yıl | POLİÜRETAN 1000 yıl | PLASTİK TABAK 500 yıl |

www.baristuncer.net

20-Bu görselden aşağıdakilerden hangisi çıkarılamaz?

- A) Kâğıt, doğada en çabuk yok olan maddedir.
- B) Plastik malzemeler uzun yıllar doğada kalır.
- C) Cam malzemeleri doğa için çok kullanmalıyız.
- D) Alüminyum, pet şişeden daha kısa zamanda yok olur.

Aşağıdaki grafikte, 6 öğrencinin birinci hafta okuma ve yazma etkinliklerine ayırdıkları süreler verilmiştir.



Öğrencilerin ikinci hafta etkinliklerine ayıracakları sürelerle ilgili bilinenler şunlardır:

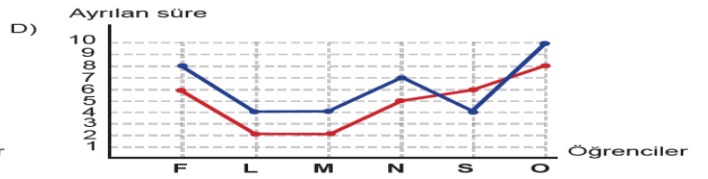
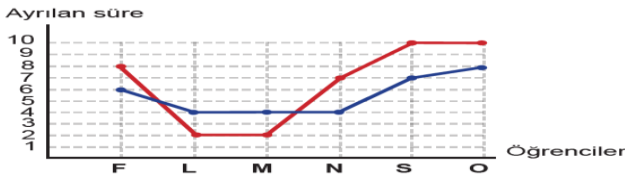
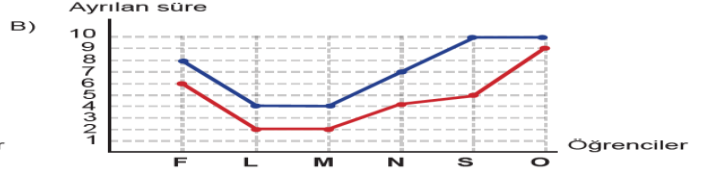
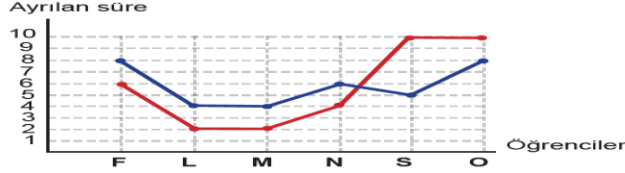
*Leyla, Naz ve Oğuz okumaya ayırdıkları süreyi yazmaya, yazmaya ayırdıkları süreyi okumaya ayıracaktır.

*Süreyya okuma ve yazma etkinliklerine bir önceki hafta ile aynı süreyi ayıracaktır.

*Faruk, ikinci haftada okuma etkinliğine 6 saat, yazma etkinliğine ise 8 saat ayıracaktır.

*Murat okuma ve yazma etkinliğine Leyla ile aynı zamanı ayıracaktır.

Yukarıdaki bilgilere göre grafiklerden hangisi öğrencilerin ikinci haftasına ait olabilir?



Aşağıdaki tablolarda İstanbul'daki tiyatro etkinliklerine ait bazı veriler paylaşılmıştır.

| Yerli | Yıllar | Gösteri Sayısı | Yıllar | Seyirci Sayısı | Salon Sayısı | Koltuk Sayısı |
|---------|--------|----------------|--------|----------------|--------------|---------------|
| | 2015 | 8.299 | | 2015 | 2.134.685 | 224 |
| Yabancı | 2016 | 8.377 | 2016 | 2.257.499 | 201 | 69.493 |
| | 2017 | 10.210 | | | | |
| | 2018 | 10.776 | | | | |
| | 2015 | 2.841 | 2017 | 2.580.069 | 237 | 71.603 |
| 2016 | 2.902 | | | | | |
| 2017 | 2.968 | | | | | |
| 2018 | 3.400 | | | | | |
| Yabancı | 2018 | 3.003.641 | 211 | 80.781 | | |

23-Yukarıdaki tabloya göre aşağıdakilerden hangisi doğrudur?

- A) Seyirci sayısının en düşük olduğu yıl, yabancı gösteri sayısı en yüksek sayıdır.
- B) Koltuk sayısının en düşük olduğu yıl, seyirci sayısı da en düşük sayıdır.
- C) Yerli gösteri sayısı her yıl artarken yabancı gösteri sayısı azalmaktadır.
- D) Tiyatro salon sayısının en yüksek olduğu yıl, seyirci sayısı bir önceki yıla göre artmıştır.

Bir üniversite öğrencisi ara tatil dönemini kişisel gelişimine ayırıp birçok eğitime katılmak istemektedir. Öğrencinin aynı zamanda kreşe giden bir kardeşi vardır ve kardeşini her gün 08.30'da kreşe bırakıp 16.30'da da kreşten almaktadır. Bu iş, 15 dakika sürmektedir. Öğrencinin katılmak istediği eğitimlerin saatleri ve günleri aşağıdaki tabloda verilmiştir.

| | Piyano | Satranç | Dans | Drama | Ebru |
|-----------|---------------|---------------|---------------|---------------|---------------|
| Pazartesi | | | 14.00 - 17.00 | 09.00 - 13.00 | |
| Salı | 09.00 - 14.00 | 10.00 - 15.00 | | | 11.00 - 13.00 |
| Çarşamba | 09.00 - 14.00 | 10.00 - 15.00 | 14.00 - 17.00 | | |
| Perşembe | 09.00 - 14.00 | 10.00 - 15.00 | 14.00 - 17.00 | 09.00 - 13.00 | |
| Cuma | | | 14.00 - 17.00 | | 11.00 - 13.00 |

24-Yukarıdaki tabloya göre bu öğrenci aşağıdaki durumların hangisini yaşayamaz?

- A) Salı günü piyano etkinliğine katılırsa ebru eğitimine katılamaz.
- B) Kardeşini alabilmesi için dans eğitimine katılamaz.
- C) Pazartesi günü drama eğitimiyle çakışan başka eğitim yoktur.
- D) Perşembe günü satranç eğitimine katılırsa kardeşini kreşten alamaz.

KABUL ETME

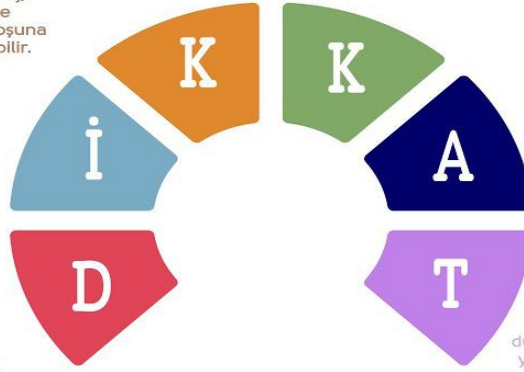
Tanımadığın ve güvenmediğin insanlardan gelen e-posta, mesaj, resim veya dosyaları kabul etme ve açma çünkü virüsler veya hoşuna gitmeyen mesajlar içeriyor olabilir.

İNANMA

İnternette konuştuğun kişiler, kim oldukları hakkında sana yalan söylüyor olabilirler, herkese inanma. İnternette sohbet etmek istiyorsan en iyisi sadece gerçek hayattaki arkadaşların ve ailenle sohbet etmektir.

DOĞRULA

İnternette edindiğin her bilgi doğru olmayabilir. İnternette yanlış, yanıltıcı ve yönlendirici bilgiler de olduğunu unutma ve bilgiyi farklı web sitelerinden, kitaplardan, kişilerden doğrula.

**KİŞİSEL BİLGİLERİNİ PAYLAŞMA**

İnternette kişisel bilgilerini paylaşırken çok dikkatli ol. Bulduğun yer, telefonun, şifren gibi kişisel bilgilerini asta kimseye paylaşma ve güvenli kal.

AİLENE ANLAT

Eğer internette bir kişi veya bir durum seni rahatsız ediyor veya üzüyorsa ailene anlat. İnternette yaşadığın tüm olumsuzlukları ailene çekinmeden anlatmalısın.

TÜRKÇEYİ DÜZGÜN VE DOĞRU KULLAN

Güzel Türkçemizi koru, düzgün ve doğru kullan. Anlamsız kısaltmalar, yabancı kelimeler, bozuk cümleler kullanma. İnan ki Türkçeyi doğru kullandıkça kendine olan saygın artacak.

25-Aşağıdakilerden hangisinin yapılması yukarıda verilen görseldeki yönergelerle çelişir?

- A) Ayşe elektronik postalarına bakarken bilmediği bir kaynaktan gelen e-postayı hemen silmiştir.
 B) Ali proje ödevini internetten araştırır, bulur ve başka bir kaynağa ihtiyaç duymadan aynen çıkarır.
 C) Mehmet Bey, elektronik posta yoluyla kişisel bilgilerini paylaşmak isteyen bir sitenin bu isteğini yapmaz ve ilgili kuruma şikayet eder.
 D) Mert, internette vakit geçirirken kendisini rahatsız eden içerikleri babasıyla paylaşır.

26-

Aşağıda baharat üretiminde kullanılan iki bitkinin yıllara göre ekildikleri toplam alan ve üretim miktarları verilmiştir.

Çörek otu

| Yıllar | Toplam Ekim Alanı (Dekar) | Üretim Miktarları (Ton) |
|--------|----------------------------|-------------------------|
| 2014 | 3.261 | 352 |
| 2015 | 1.717 | 140 |
| 2016 | 4.681 | 425 |
| 2017 | 23.610 | 2.527 |
| 2018 | 32.560 | 3.094 |

Kırmızı biber

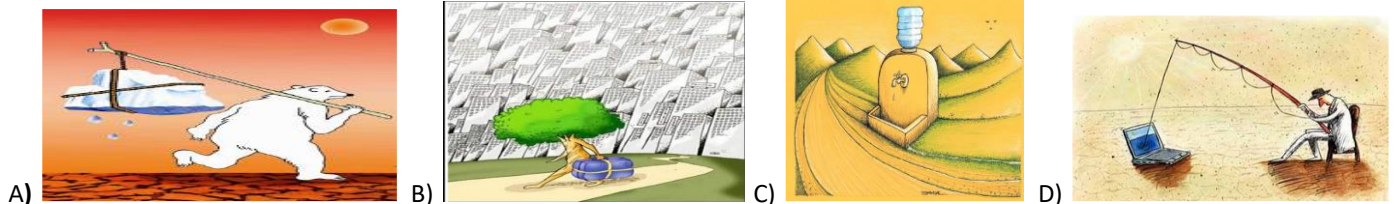
| Yıllar | Toplam Ekim Alanı (Dekar) | Üretim Miktarları (Ton) |
|--------|----------------------------|-------------------------|
| 2014 | 108.508 | 186.291 |
| 2015 | 112.887 | 204.131 |
| 2016 | 122.415 | 228.531 |
| 2017 | 101.710 | 179.264 |
| 2018 | 119.865 | 227.380 |

Buna göre baharatlarla ilgili aşağıdakilerden hangisine ulaşamaz ?

- A) 2014 yılında kırmızı biberin toplam ekim alanı çörek otuna göre daha fazladır.
 B) Çörek otunun toplam ekim alanının en çok olduğu yıl 2018'dir.
 C) Kırmızı biberin toplam üretim miktarı her sene artmıştır.
 D) Çörek otunun toplam ekim alanının en az olduğu yılda, üretim miktarı da en azdır.

Yaşadığımız yüzyılın en büyük sorunlarından biri küresel ısınma. Küresel ısınmanın getirdiği mevsim değişikliklerinin, su kaynaklarının azalmasına etkileri üzerinde düşünüp bu soruna kalıcı çözümler bulmak zorundayız. Çünkü bilim insanları son elli yıldaki sıcaklık artışının insan hayatı üzerinde fark edilebilir etkileri olduğu görüşünde. Üstelik artık geri dönüşü olmayan bir noktaya yaklaşıyor. Hiçbir önlem alınmazsa bu yüzyıl sonunda küresel sıcaklığın ortalama 2 derece artacağı tahmin ediliyor.

27-Aşağıdaki karikatürlerden hangisi verilen metinle ilişkili değildir?



Tatamide gurur kaynağı kadın tekvandocular

İtalya'da düzenlenen G4 Ekstra Avrupa Tekvando Şampiyonası'nda 5'te 5 yaparak takım halinde şampiyonluğa ulaşan kadın milli sporcular, performanslarıyla dikkati çekti

IREM
YAMAN



ALTIN MADALYA
57 kilo

RUKİYE
YILDIRIM



ALTIN MADALYA
49 kilo

ZELİHA
AĞRIS



GÜMÜŞ MADALYA
53 kilo

NUR TATAR
ASKARI



BRONZ MADALYA
67 kilo

NAFİA
KUŞ



BRONZ MADALYA
+67 kilo

TÜRKİYE
5 MADALYA
KAZANDI



AY-YILDIZLI KADIN
TEKVANDOCULAR,
TAKIM HALİNDE AVRUPA
ŞAMPİYONU OLDU

2 ALTIN

1 GÜMÜŞ

2 BRONZ

28-Görselden yola çıkarak hangisi "ülkemizin kazandığı sportif başarı"yla ilgili önemsiz bir bilgidir?

- A) G4 Ekstra Avrupa Tekvando Şampiyonası'nda katılan beş sporcumuz da madalya almaya hak kazanmıştır.
- B) Kadın tekvandocularımız takım hâlinde şampiyon olmuştur.
- C) Tekvandocularımızın madalya dağılımı 2 altın,1 gümüş, 2 bronz şeklindedir.
- D) G4 Ekstra Avrupa Tekvando Şampiyonası İtalya'da yapılmıştır.



29-Görseli en iyi ifade eden metin hangisidir?

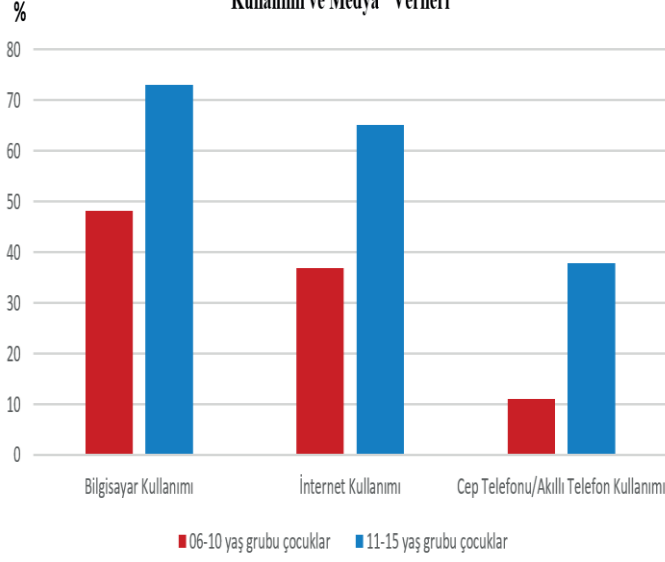
A) Gözlerimi açıp yataktan kalktım. Üzerimdeki uyku sersemliğini atmak için pencereden sızan güneşin ilk ışıkları yetecekti. Bu amaçla odanın mavi renkli stor perdelerini kaldırıncaya deliksiz bir uykudan beni kendime getiren mucizevi bir tabloyla karşı karşıya kaldım. Zannımca gece yarısı yağmaya başlayan kar her tarafı doldurmuştu. Bahçe duvarının hemen önündeki caddede; okula giden çocuklar, yılın ilk karını yaptıkları kardan adamlarla karşılıyordu.

B) Dün gecedan beri yağın kar, sabaha karşı dondurucu bir tipiye dönüşmüş. Ağaç dallarına düşen kar tanecikleri birbirleriyle kaynaşmış, küçük buz kütleleri haline gelmişti. Orta yaşlarda kasketli bir adam, Davutkadı Pasajı'nın önündeki durakta durmuş olan 7.30 tramvayına binmeye çalışıyordu. Görünüşe göre bir yerlere zamanından evvel yetişme telaşesi içindeydi. Zannımca elinde tuttuğu paketlerde evliliklerinin yıl dönümü nedeniyle eşine aldığı küçük sürprizleri vardı. Etrafta işlerine yetişmeye çalışan insanlar vardı ve bu muhteşem hediyelerden kimsenin haberi yoktu.

C) Davutkadı Pasajı, Bursa'nın en eski kapalı çarşılarından. Yıllar, duvarlarını eskitmiş ancak canlılığından hiçbir şeyi götürmemiştir. Pasajın geniş mekânlı dükkanlarında nice insanlar gelip geçmiş; nice esnaflar, en güzel ürünlerini müşterilerinin hizmetine sunmuştu. Şimdilerde ise alt katında büyükçe bir eczane, üstündeki sofalı katta ise sürücü kursu vardır. Tramvay yolu ise pasajın hemen önünden geçmektedir.

D) Bursa'nın kışları evelden beri soğuk ve karlı olur. Öyle ki yurdumuzun batı şehirlerinde böyle bir ayazla karşılaşmak nadirdir doğrusu. Ağaçların dalları bile donar, caddelerdeki asırlık çınarlar yaratıldıklarından beri alıştı bu iklime. Şehrin insanları düşen ilk karla kışlıklara bürünürler. Soğuğa karşı yiğitliğin olmadığı zemheri aylarında değişmez tek doğrudur.

2013 Yılına Ait "06-15 Yaş Grubu Çocuklarda Bilişim Teknolojileri Kullanımı ve Medya" Verileri



30-Bu grafikten hareketle aşağıdakilerden hangisi söylenemez?

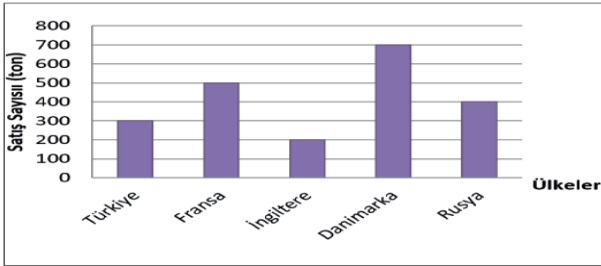
- A) 06-10 yaş grubunun bilgisayar kullanım oranı, 11-15 yaş grubundan daha azdır.
 B) Bilgisayar kullanımı; internet kullanımı ve akıllı telefon kullanımına göre her iki yaş grubunda da fazladır.
 C) 06-10 yaş grubunda internet kullanımı, 11-15 yaş grubunda akıllı telefon kullanımı oranı birbirine yakındır.
 D) 11-15 yaş grubu çocuklarda bilgisayar, internet ve akıllı telefon kullanım oranında belirli bir artış gözlenmiştir.

Bir amaç için üretilen (tanıtım broşürleri, müze giriş biletleri, öğrenci belgeleri), gerçek değerleri zamanla anlaşılan (gazete nüshaları, genelgeler, fotoğraflar), koleksiyoncular tarafından koleksiyon malzemesi olarak da değerlendirilen (posta kartları, posterler, rozetler, sinema afişleri, posta pulları), geçici belgelerin tamamına efemera denir.

31-Hangi seçenekte açıklamalara uygun olmayan bir efemera örneğine yer verilmiştir?



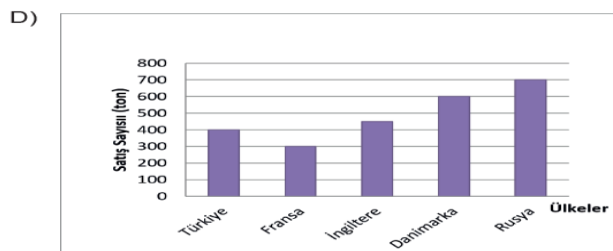
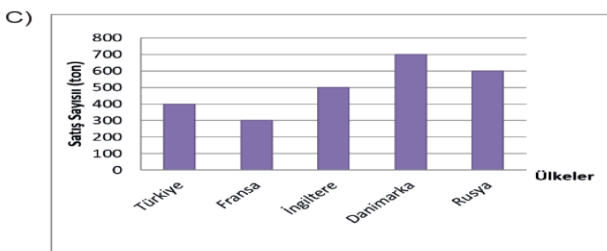
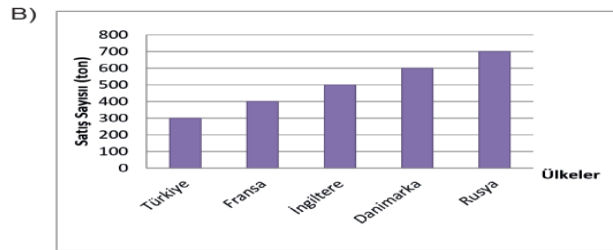
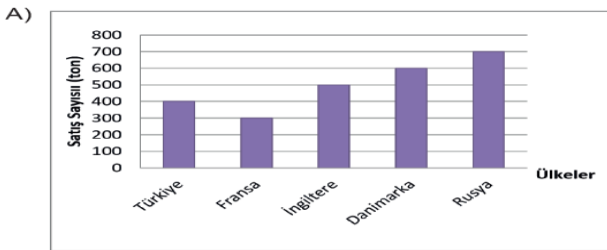
32-



Yandaki grafikte bir pirinç firmasının 2015 yılında ülkelere ihraç ettiği pirinç tonları verilmiştir. Bu firmanın aynı ülkelere 2019 yılında sattığı pirinçlerin tonları ile ilgili bilinenler ise şunlardır;

- ⇒ Rusya'ya Danimarka'dan daha fazla pirinç satmıştır.
 ⇒ İngiltere'ye satılan pirinç tonu, 2015 yılında Fransa'ya satılan pirinç tonunu yakalamıştır.
 ⇒ Türkiye'ye Fransa'dan fazla, Danimarka'dan az pirinç satmıştır.

Buna göre aşağıdakilerden hangisi bu firmanın 2019 yılında sattığı pirinç tonunu gösteren grafik olabilir?



| | |
|-----|---|
| 1- | C |
| 2- | C |
| 3- | A |
| 4- | B |
| 5- | C |
| 6- | A |
| 7- | C |
| 8- | D |
| 9- | D |
| 10- | D |
| 11- | C |
| 12- | B |
| 13- | C |
| 14- | A |
| 15- | C |
| 16- | B |
| 17- | A |
| 18- | D |
| 19 | D |
| 20- | C |
| 21- | B |
| 22- | A |
| 23- | D |
| 24- | D |
| 25- | B |
| 26- | C |
| 27- | B |
| 28- | D |
| 29- | B |
| 30- | D |
| 31- | D |
| 32- | A |